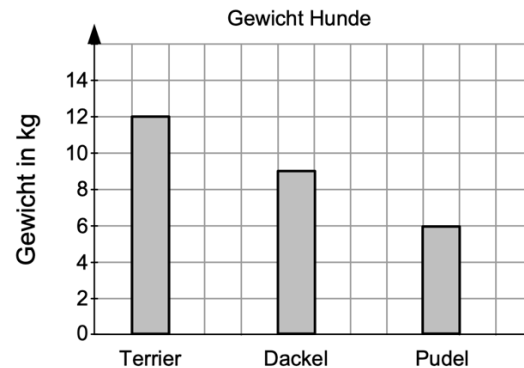


Aufgabenkarten Schülerlösungen: Daten

Tims Lösung:

Fiona hat zu der Tabelle ein Diagramm gezeichnet.

Gewicht verschiedener Hundearten	
Terrier	6 kg
Dackel	9 kg
Pudel	12 kg



Ist ihr Diagramm richtig? Kreuze an. ☐ ja ☒ nein

Begründe.

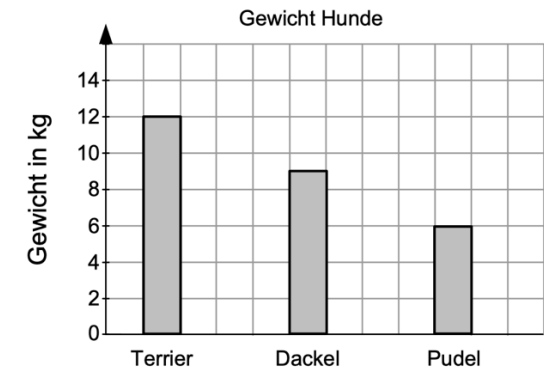
☒ Sie hat bei allen dreien entweder zu viel oder zu wenig,

- Tim meint, dass das Diagramm nicht richtig ist.
- Welchen Tipp würdest du Tim geben, damit er seine Meinung richtig begründen kann?

Jakobs Lösung:

Fiona hat zu der Tabelle ein Diagramm gezeichnet.

Gewicht verschiedener Hundearten	
Terrier	6 kg
Dackel	9 kg
Pudel	12 kg



Ist ihr Diagramm richtig? Kreuze an. ☐ ja ☒ nein

Begründe.

☒ Es sind immer andere angegeben

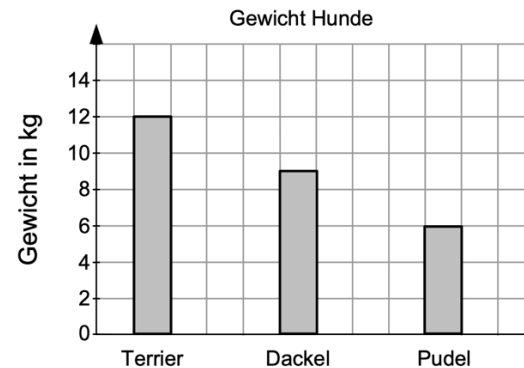
- Reicht dir die Begründung von Jakob?
- Was fehlt bei der Begründung? Notiere deine Ideen.
- Überlegt gemeinsam: Worauf muss man bei einer guten Begründung achten?

Aufgabenkarten Schülerlösungen: Daten

Julias Lösung:

Fiona hat zu der Tabelle ein Diagramm gezeichnet.

Gewicht verschiedener Hundearten	
Terrier	6 kg
Dackel	9 kg
Pudel	12 kg



Ist ihr Diagramm richtig? Kreuze an.

☐ ja

☒ nein

Begründe.

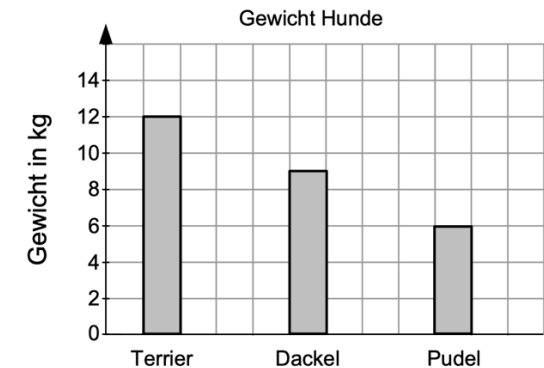
☒ sie hat die beiden eusseren
vertauscht

- Was meint Julia in ihrer Begründung genau?
- Welchen Tipp würdest du Julia geben, damit sie Ihre Meinung noch besser begründen kann?

Saras Lösung:

Fiona hat zu der Tabelle ein Diagramm gezeichnet.

Gewicht verschiedener Hundearten	
Terrier	6 kg
Dackel	9 kg
Pudel	12 kg



Ist ihr Diagramm richtig? Kreuze an.

☐ ja

☒ nein

Begründe.

☒ Bei Terrier sind es mehr und
beim Pudel weniger.

- Was meint Sara in ihrer Begründung genau?
- Welchen Tipp würdest du Sara geben, damit sie Ihre Meinung genauer begründen kann?